



basic education

Department:
Basic Education
REPUBLIC OF SOUTH AFRICA

SENIORSERTIFIKAAT-EKSAMEN/ NASIONALE SENIORSERTIFIKAAT-EKSAMEN

FISIESE WETENSKAPPE: CHEMIE (V2)

2022

PUNTE: 150

TYD: 3 uur



Hierdie vraestel bestaan uit 16 bladsye en 4 gegewensblaaie.

INSTRUKSIES EN INLIGTING

1. Skryf jou sentrumnommer en eksamennommer in die toepaslike ruimtes op die ANTWOORDEBOEK neer.
2. Hierdie vraestel bestaan uit NEGE vrae. Beantwoord AL die vrae in die ANTWOORDEBOEK.
3. Begin ELKE vraag op 'n NUWE bladsy in die ANTWOORDEBOEK.
4. Nommer die antwoorde korrek volgens die nommeringstelsel wat in hierdie vraestel gebruik is.
5. Laat EEN reël tussen twee subvrae oop, bv. tussen VRAAG 2.1 en VRAAG 2.2.
6. Jy mag 'n nieprogrammeerbare sakrekenaar gebruik.
7. Jy mag toepaslike wiskundige instrumente gebruik.
8. Toon ALLE formules en substitusies in ALLE berekeninge.
9. Rond jou FINALE numeriese antwoorde tot 'n minimum van TWEE desimale plekke af.
10. Gee kort (bondige) motiverings, besprekings, ens. waar nodig.
11. Jy word aangeraai om die aangehegte GEGEWENSBLAAIE te gebruik.
12. Skryf netjies en leesbaar.



VRAAG 1: MEERVOUDIGEKEUSE-VRAE

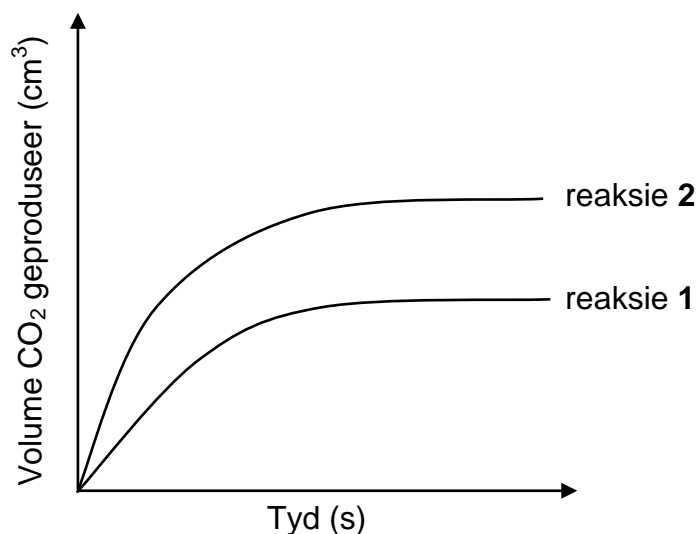
Verskeie opsies word as moontlike antwoorde op die volgende vrae gegee. Elke vraag het slegs EEN korrekte antwoord. Kies die antwoord en skryf slegs die letter (A–D) langs die vraagnommers (1.1 tot 1.10) in die ANTWOORDEBOEK neer, bv. 1.11 E.

- 1.1 Watter EEN van die volgende verbindings het die LAAGSTE smeltpunt?
- A Heksaan
 - B Etaan
 - C Butaan
 - D Oktaan (2)
- 1.2 Wanneer $\text{CH}_2 = \text{CH}_2$ omgeskakel word na CH_3CH_3 , is die tipe reaksie ...
- A hidrasie.
 - B hidrolise.
 - C halogenering.
 - D hidrogenering. (2)
- 1.3 Watter EEN van die volgende verbindings in oplossing sal die kleur van broomtimolblou verander?
- A $\text{CH}_3\text{CH}_2\text{CHO}$
 - B $\text{CH}_3\text{CH}_2\text{COOH}$
 - C $\text{CH}_3\text{CH}_2\text{COCH}_3$
 - D $\text{CH}_3\text{CH}_2\text{COOCH}_3$ (2)



- 1.4 Twee VERSKILLENDE monsters van ONSUIWER CaCO_3 met GELYKE massas reageer met $0,1 \text{ mol}\cdot\text{dm}^{-3} \text{ H}_2\text{SO}_4$. Aanvaar dat die onsuierhede nie reageer nie.

Die grafiek hieronder toon die volume $\text{CO}_2(\text{g})$ vir elke reaksie geproduseer.



Wanneer dit met reaksie **2** vergelyk word, watter EEN van die volgende stellings verduidelik die kurwe verkry vir reaksie **1** die BESTE?

- A Die temperatuur is hoër in reaksie **1**.
- B Die oppervlakarea is groter in reaksie **2**.
- C Die hoeveelheid onsuierhede is groter in reaksie **2**.
- D Die hoeveelheid onsuierhede is groter in reaksie **1**. (2)

- 1.5 Die vergelyking hieronder verteenwoordig 'n hipotetiese reaksie.



Die aktiveringsenergie vir die TERUGWAARTSE reaksie is $110 \text{ kJ}\cdot\text{mol}^{-1}$.

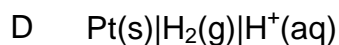
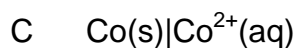
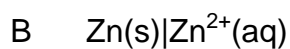
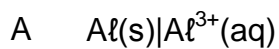
Watter EEN van die volgende is die aktiveringsenergie (in $\text{kJ}\cdot\text{mol}^{-1}$) vir die VOORWAARTSE reaksie?

- A 50
- B 60
- C 110
- D 160 (2)



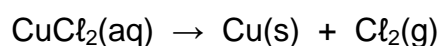
1.9 'n Elektrochemiese sel is onder standaardtoestande opgestel deur 'n $\text{Hg}(\ell)|\text{Hg}^{2+}(\text{aq})$ -halfsel en 'n ander halfsel te gebruik.

Watter EEN van die volgende halfselle, wanneer dit aan die $\text{Hg}(\ell)|\text{Hg}^{2+}(\text{aq})$ -halfsel verbind is, sal die HOOGSTE selpotensiaal tot gevolg hê?



(2)

1.10 Die volgende reaksie vind in 'n elektrochemiese sel plaas:



Watter EEN van die volgende is KORREK vir hierdie sel?

A Dit is 'n galvaniese sel.

B 'n Kragbron word benodig.

C Die reaksie is spontaan.

D Koper tree as die oksideermiddel op.

(2)

[20]



VRAAG 2 (Begin op 'n nuwe bladsy.)

Die letters **A** tot **H** in die tabel hieronder verteenwoordig agt organiese verbindings.

A	$ \begin{array}{ccccccc} & \text{Br} & & \text{CH}_3 & & & \\ & & & & & & \\ \text{CH}_3 & \text{C} & \text{CH}_2 & \text{CH} & \text{CH} & \text{CH}_3 & \\ & & & & & & \\ & \text{CH}_3 & & \text{CH}_3 & & & \end{array} $	B	$ \begin{array}{ccccccc} & \text{H} & & & & \text{H} & \\ & & & & & & \\ \text{H} & - \text{C} & - & \text{C} = & \text{C} & - & \text{C} - \text{H} \\ & & & & & & \\ & \text{H} & & \text{H} & & \text{H} & \end{array} $
C	Pent-2-een	D	$\text{CH}_3\text{CH}_2\text{CH}_2\text{CHO}$
E	Butan-2-oon	F	4,4-dimetielpent-2-yn
G	Butaan	H	$\text{CH}_3\text{CH}_2\text{CH}_2\text{COOH}$

- 2.1 Skryf die LETTER neer wat 'n verbinding verteenwoordig wat:
- 2.1.1 'n Keton is (1)
 - 2.1.2 Die algemene formule $\text{C}_n\text{H}_{2n-2}$ het (1)
 - 2.1.3 'n Isomeer van 2-metielbut-2-een is (1)
 - 2.1.4 Dieselfde molekulêre formule as etieleenoaat het (1)
- 2.2 Skryf neer die:
- 2.2.1 IUPAC-naam van verbinding **A** (3)
 - 2.2.2 STRUKTUURFORMULE van verbinding **F** (3)
- 2.3 Vir verbinding **D**, skryf neer die:
- 2.3.1 Homoloë reeks waaraan dit behoort (1)
 - 2.3.2 NAAM van sy funksionele groep (1)
 - 2.3.3 STRUKTUURFORMULE van sy funksionele isomeer (2)
- 2.4 Vir verbinding **G**, skryf neer:
- 2.4.1 Die IUPAC-naam van 'n kettingsisomeer (2)
 - 2.4.2 'n Gebalanseerde vergelyking vir sy volledige verbranding, deur molekulêre formules te gebruik (3)

[19]

VRAAG 3 (Begin op 'n nuwe bladsy.)

Leerders ondersoek faktore wat die kookpunte van organiese verbindings beïnvloed. Die kookpunte van sommige organiese verbindings verkry, word in die tabel hieronder getoon.

VERBINDING		MOLEKULÊRE MASSA (g·mol ⁻¹)	KOOKPUNT (°C)
A	Propaan	44	- 42
B	Butaan	58	- 0,5
C	Pentaaan	72	36
D	Metielbutaan	72	28
E	Etanol	46	78
F	Etanaal	44	20

- 3.1 Definieer die term *kookpunt*. (2)
- 3.2 Die kookpunte van verbindings **A**, **B** en **C** word vergelyk.
- 3.2.1 Hoe verander die kookpunte van verbinding **A** na verbinding **C**?
Kies uit NEEM TOE, NEEM AF of BLY DIESELFDE. (1)
- 3.2.2 Verduidelik die antwoord op VRAAG 3.2.1. (3)
- 3.3 Die kookpunte van verbindings **B**, **C** en **D** word vergelyk.
Is dit 'n regverdigte vergelyking?
Kies uit JA of NEE. Gee 'n rede vir die antwoord. (2)
- 3.4 Die kookpunte van verbindings **E** en **F** word vergelyk.
- 3.4.1 Noem die onafhanklike veranderlike vir hierdie vergelyking. (1)
- 3.4.2 Skryf die naam van die sterkste Van der Waals-krag teenwoordig in verbinding **F** neer. (1)
- 3.5 Watter verbinding, **D** of **E**, het 'n hoër dampdruk? Gee 'n rede vir die antwoord. (2)

[12]

VRAAG 4 (Begin op 'n nuwe bladsy.)

4.1 Bestudeer die volgende onvolledige vergelykings vir organiese reaksies **I** en **II**.

Verbindings **P** en **Q** is ORGANIESE verbindings en **T** is 'n ANORGANIESE verbinding.

I	$ \begin{array}{c} \text{CH}_3 \\ \\ \text{CH}_3\text{CHCHCH}_3 \\ \\ \text{Br} \end{array} + \text{NaOH (gekons.)} \longrightarrow \text{P} + \text{NaBr} + \text{T} $ <p style="text-align: center;">(hoofproduk)</p>
II	$\text{CH}_3\text{COOH} + \text{verbinding Q} \rightarrow \text{butieletanoaat} + \text{H}_2\text{O}$

Vir reaksie **I**, skryf neer die:

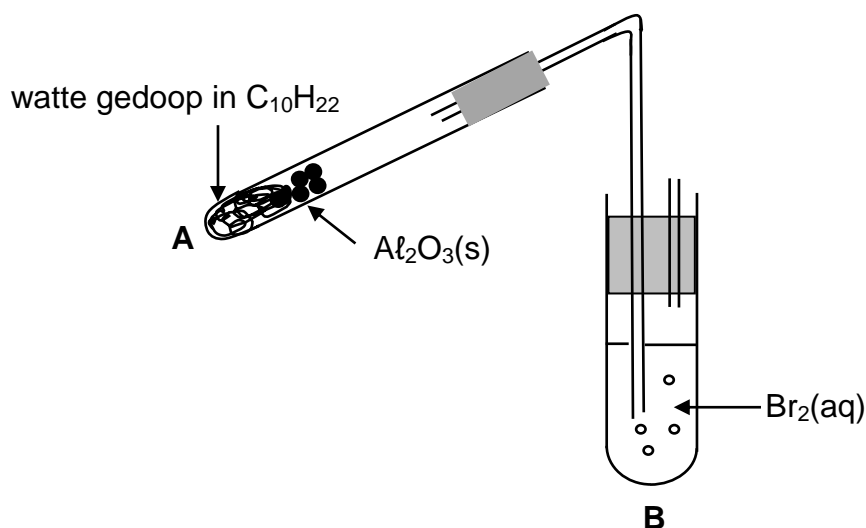
- 4.1.1 Tipe reaksie wat plaasvind (1)
- 4.1.2 IUPAC-naam van verbinding **P** (2)
- 4.1.3 NAAM of FORMULE van verbinding **T** (1)

Vir reaksie **II**, skryf neer:

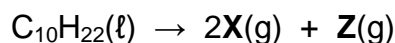
- 4.1.4 TWEE reaksietoestande benodig (2)
- 4.1.5 Die STRUKTUURFORMULE van verbinding **Q** (2)



- 4.2 Die kraging van 'n lang ketting koolwaterstof, $C_{10}H_{22}$, vind in proefbuis **A** plaas, soos hieronder getoon.



Twee REGUITKETING organiese verbindings, **X** en **Z**, word in proefbuis **A** volgens die volgende gebalanseerde vergelyking geproduseer:



- 4.2.1 Noem die funksie van die $Al_2O_3(s)$ in proefbuis **A**. (1)

Die organiese verbindings, **X** en **Z**, word nou by kamertemperatuur deur broomwater, $Br_2(aq)$, in proefbuis **B** geborrel. Slegs verbinding **X** reageer met die broomwater.

- 4.2.2 Buiten gasborrels wat vorm, noem nog 'n ander waarneembare verandering in proefbuis **B**. (1)

- 4.2.3 Skryf die TIPE reaksie neer wat in proefbuis **B** plaasvind. (1)

- 4.2.4 Skryf die molekulêre formule van verbinding **Z** neer. (3)

- 4.2.5 Skryf die STRUKTUURFORMULE van verbinding **X** neer. (3)

[17]



VRAAG 5 (Begin op 'n nuwe bladsy.)

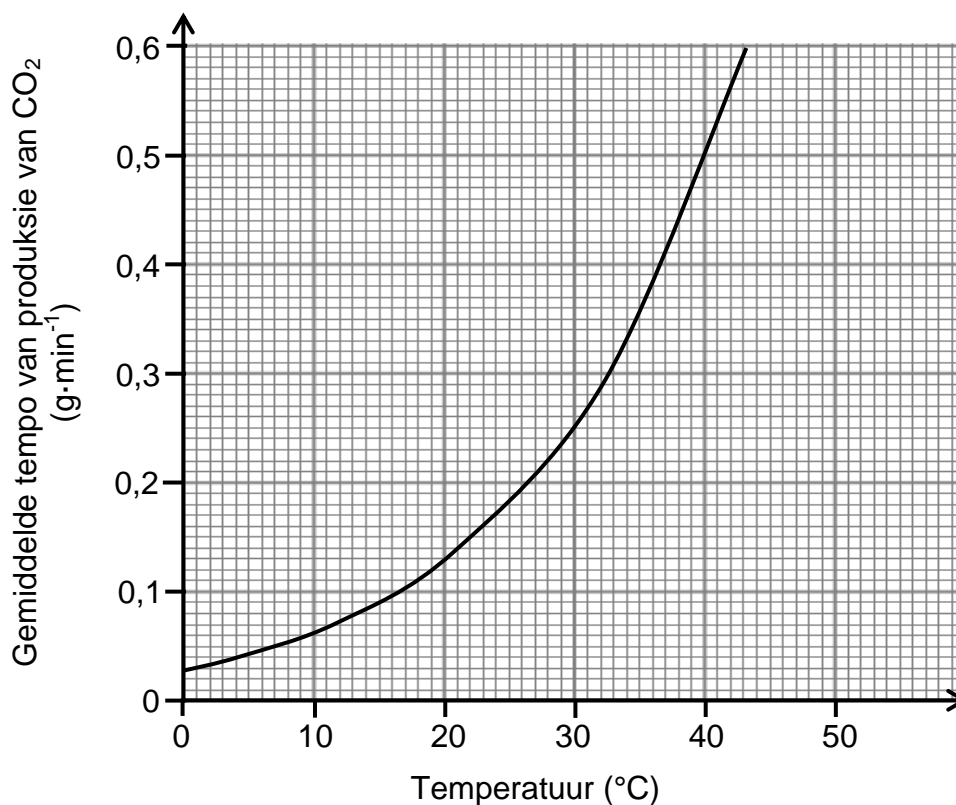
Leerders gebruik die reaksie van $\text{MgCO}_3(\text{s})$ met OORMAAT verdunde $\text{HCl}(\text{aq})$ om die verwantskap tussen temperatuur en die tempo van 'n chemiese reaksie te ondersoek.

Die gebalanseerde vergelyking vir die reaksie is:



Die resultate wat verkry is, word in die grafiek hieronder voorgestel.

Grafiek van gemiddelde tempo van produksie van CO_2 (in $\text{g}\cdot\text{min}^{-1}$) teenoor temperatuur



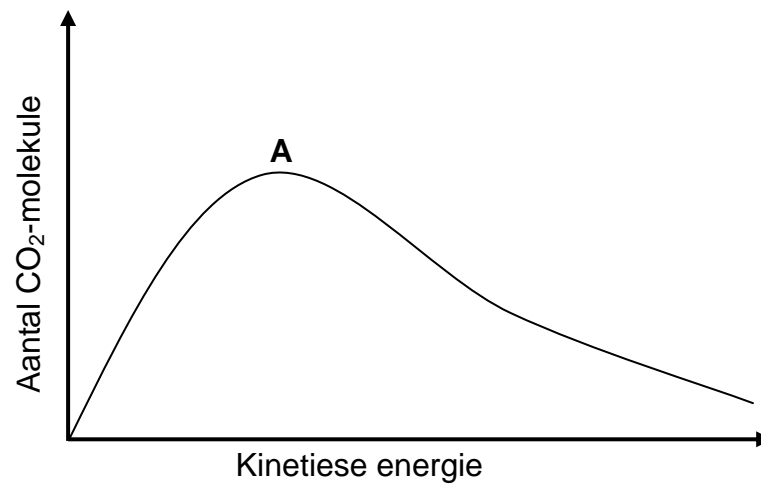
- 5.1 Definieer die term *reaksietempo*. (2)
- 5.2 Noem TWEE toestande wat gedurende hierdie ondersoek konstant gehou moet word. (2)
- 5.3 Gebruik die botsingsteorie om die verwantskap getoon in die grafiek, te verduidelik. (4)
- 5.4 Die leerders het die grafiek hierbo verkry deur 5 g $\text{MgCO}_3(\text{s})$ met 'n OORMAAT HCl by 40 °C te gebruik.

Bereken die:

- 5.4.1 Tyd geneem vir die reaksie om volledig te verloop (6)
- 5.4.2 Molêre gasvolume by 40 °C indien 1,5 dm^3 CO_2 in 'n spuit versamel is (2)



- 5.5 Die grafiek hieronder stel die Maxwell-Boltzmann-verspreidingskurwe vir $\text{CO}_2(\text{g})$ by $40\text{ }^\circ\text{C}$ voor.



Teken die grafiek hierbo in die ANTWOORDEBOEK oor. Benoem die kurwe duidelik as **A**.

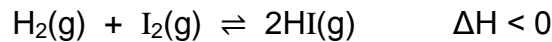
Op dieselfde assestelsel, skets die kurwe wat vir die $\text{CO}_2(\text{g})$ by $20\text{ }^\circ\text{C}$ verkry sal word. Benoem hierdie kurwe as **B**.

(2)
[18]

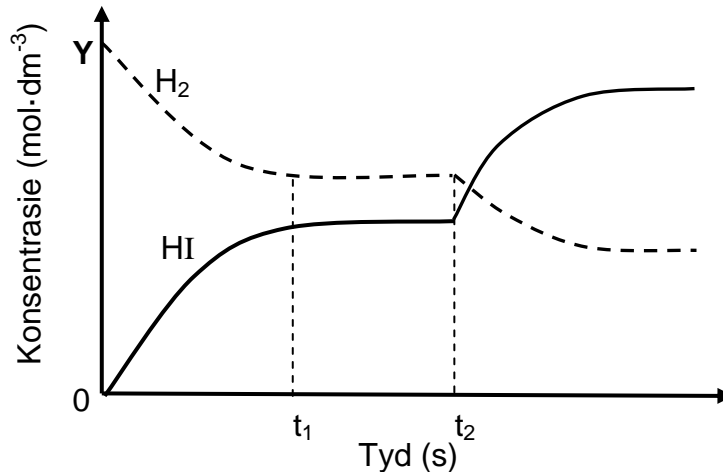


VRAAG 6 (Begin op 'n nuwe bladsy.)

- 6.1 Aanvanklik word 4 mol $\text{H}_2(\text{g})$ en 4 mol $\text{I}_2(\text{g})$ toegelaat om te reageer in 'n verseëde 2 dm^3 -fles volgens die volgende gebalanseerde vergelyking:

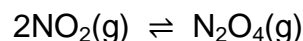


Die grafiek hieronder toon die konsentrasies van $\text{H}_2(\text{g})$ and $\text{HI}(\text{g})$ teenoor tyd gedurende die reaksie.



- 6.1.1 Skryf die waarde van **Y** neer. (1)
- 6.1.2 Stel Le Chatelier se beginsel. (2)
- 6.1.3 Veranderinge is aan die temperatuur van die fles by tyd t_2 gemaak.
Is die fles VERHIT of AFGEKOEL? (1)
- 6.1.4 Verduidelik volledig die antwoord op VRAAG 6.1.3. (3)

- 6.2 Die vergelyking hieronder verteenwoordig die omkeerbare reaksie wat plaasvind wanneer $\text{NO}_2(\text{g})$ na $\text{N}_2\text{O}_4(\text{g})$ omgeskakel word.



Aanvanklik word x mol $\text{NO}_2(\text{g})$ in 'n 1 dm^3 -houer by 350 K verseël. Wanneer ewewig by hierdie temperatuur bereik word, is 0,81 mol $\text{N}_2\text{O}_4(\text{g})$ in die houer teenwoordig.

- 6.2.1 Skryf die betekenis van die term *omkeerbare reaksie* neer. (1)
- 6.2.2 Toon dat die ewewigskonstante vir hierdie reaksie deur $\frac{0,81}{(x-1,62)^2}$ gegee word. (5)

0,79 mol $\text{N}_2\text{O}_4(\text{g})$ word nou by die ewewigmengsel hierbo gevoeg. Wanneer die NUWE ewewig by 350 K bereik word, word gevind dat die hoeveelheid $\text{NO}_2(\text{g})$ met 1,2 mol toegeneem het.

- 6.2.3 Bereken die waarde van x . (6)

[19]

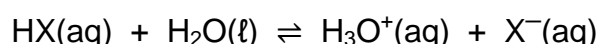
VRAAG 7 (Begin op 'n nuwe bladsy.)

7.1 Twee sure, HX en HY, met GELYKE KONSENTRASIES word vergelyk. Die pH van HX is 2,7 en die pH van HY is 0,7.

7.1.1 Definieer 'n *suur* in terme van die Lowry-Brønsted-teorie. (2)

7.1.2 Watter suur, HX of HY, is **STERKER**? Gee 'n rede vir die antwoord. (2)

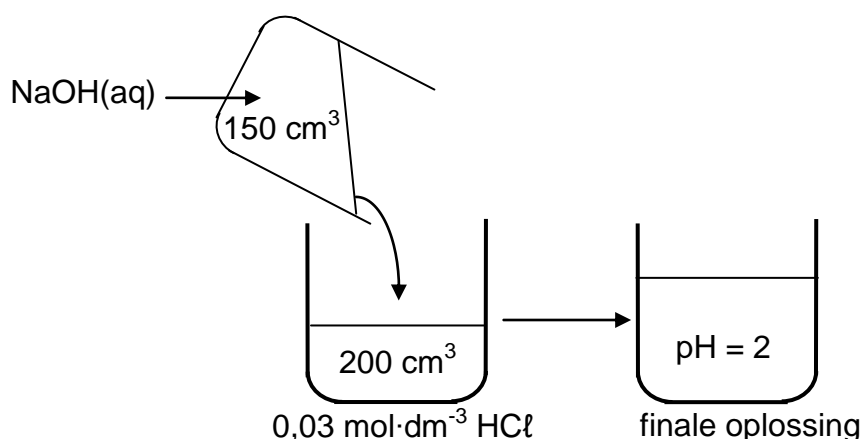
7.1.3 Suur HX ioniseer in water volgens die volgende vergelyking:



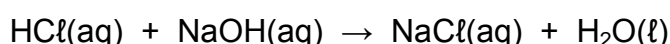
Die K_a -waarde vir die reaksie is $1,8 \times 10^{-5}$ by 25°C .

Is die konsentrasie van die hidroniumione **HOËR AS**, **LAER AS** of **GELYK AAN** die konsentrasie van HX? Gee 'n rede vir die antwoord. (2)

7.2 Leerders voeg 150 cm^3 van 'n natriumhidroksiedoplossing, NaOH, met 'n onbekende konsentrasie by 200 cm^3 van 'n $0,03\text{ mol}\cdot\text{dm}^{-3}$ -soutsuuroplossing, HCl, soos hieronder geïllustreer. Hulle vind dat die finale oplossing 'n pH van 2 het. Aanvaar dat die volumes bymekaartel.



Die gebalanseerde vergelyking vir die reaksie is:



Bereken die:

7.2.1 Konsentrasie van die H_3O^+ -ione in die finale oplossing (3)

7.2.2 Aanvanklike konsentrasie van die NaOH(aq) (7)

[16]



VRAAG 8 (Begin op 'n nuwe bladsy.)

8.1 'n Elektrochemiese sel word opgestel deur 'n aluminiumstaaf, Al, en 'n gas **X** te gebruik.

Die aanvanklike emk by standaardtoestande gemeet, is 2,89 V.

8.1.1 Noem die standaardtoestande waaronder hierdie sel funksioneer. (3)

8.1.2 Gebruik 'n berekening om gas **X** te identifiseer. (5)

8.1.3 Skryf die FORMULE van die reduseermiddel in hierdie sel neer. (1)

8.1.4 Skryf die halfreaksie neer wat by die katode plaasvind. (2)

8.1.5 Skryf die selnotasie vir hierdie sel neer. (3)

8.2 Watter houer, SINK of KOPER, sal geskikter wees om 'n waterige oplossing van nikkel-ione, Ni^{2+} , te stoor?

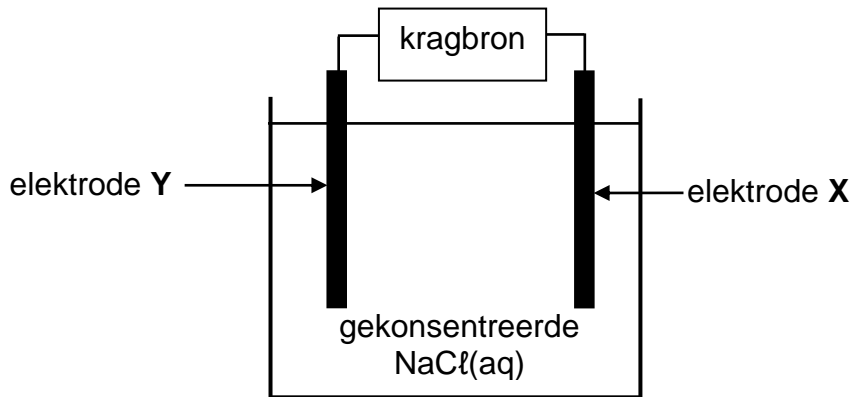
Verwys na die Tabel van Standaard-Reduksiepotensiale om die antwoord volledig in terme van die relatiewe sterkte van reduseermiddels te verduidelik. (4)

[18]



VRAAG 9 (Begin op 'n nuwe bladsy.)

Die vereenvoudigde diagram hieronder verteenwoordig 'n elektrochemiese sel wat gebruik word vir die elektrolise van 'n gekonsentreerde natriumchloriedoplossing, $\text{NaCl}(\text{aq})$. **X** en **Y** is koolstofelektrodes.



- 9.1 Definieer die term *elektrolise*. (2)
- 9.2 Chloorgas, $\text{Cl}_2(\text{g})$, word by elektrode **X** vrygestel.
Skryf neer die:
- 9.2.1 Letter (**X** of **Y**) van die elektrode waar oksidasie plaasvind (1)
- 9.2.2 Halfreaksie wat by elektrode **Y** plaasvind (2)
- 9.2.3 Rigting waarin elektrone in die eksterne stroombaan vloei
Kies uit **X** tot **Y** OF **Y** tot **X**. (1)
- 9.2.4 Gebalanseerde vergelyking vir die netto (algehele) selreaksie wat in die sel plaasvind (3)
- 9.3 Hoe sal die pH van die elektroliet gedurende die reaksie verander?
Kies uit TOENEEM, AFNEEM of BLY DIESELFDE. (1)
- 9.4 Gee 'n rede vir die antwoord op VRAAG 9.3. (1)

[11]**TOTAAL: 150**

**DATA FOR PHYSICAL SCIENCES GRADE 12
PAPER 2 (CHEMISTRY)**

**GEGEWENS VIR FISIESTE WETENSKAPPE GRAAD 12
VRAESTEL 2 (CHEMIE)**

TABLE 1: PHYSICAL CONSTANTS/TABEL 1: FISIESTE KONSTANTES

NAME/NAAM	SYMBOL/SIMBOOL	VALUE/WAARDE
Standard pressure <i>Standaarddruk</i>	p^θ	$1,013 \times 10^5 \text{ Pa}$
Molar gas volume at STP <i>Molêre gasvolume by STD</i>	V_m	$22,4 \text{ dm}^3 \cdot \text{mol}^{-1}$
Standard temperature <i>Standaardtemperatuur</i>	T^θ	273 K
Charge on electron <i>Lading op elektron</i>	e	$-1,6 \times 10^{-19} \text{ C}$
Avogadro's constant <i>Avogadro-konstante</i>	N_A	$6,02 \times 10^{23} \text{ mol}^{-1}$

TABLE 2: FORMULAE/TABEL 2: FORMULES

$n = \frac{m}{M}$	$n = \frac{N}{N_A}$
$c = \frac{n}{V}$ or/of $c = \frac{m}{MV}$	$n = \frac{V}{V_m}$
$\frac{c_a v_a}{c_b v_b} = \frac{n_a}{n_b}$	$\text{pH} = -\log[\text{H}_3\text{O}^+]$
$K_w = [\text{H}_3\text{O}^+][\text{OH}^-] = 1 \times 10^{-14}$ at/by 298 K	
$E_{\text{cell}}^\theta = E_{\text{cathode}}^\theta - E_{\text{anode}}^\theta$ / $E_{\text{sel}}^\theta = E_{\text{katode}}^\theta - E_{\text{anode}}^\theta$	
or/of $E_{\text{cell}}^\theta = E_{\text{reduction}}^\theta - E_{\text{oxidation}}^\theta$ / $E_{\text{sel}}^\theta = E_{\text{reduksie}}^\theta - E_{\text{oksidasie}}^\theta$	
or/of $E_{\text{cell}}^\theta = E_{\text{oxidising agent}}^\theta - E_{\text{reducing agent}}^\theta$ / $E_{\text{sel}}^\theta = E_{\text{oksideermiddel}}^\theta - E_{\text{reduseermiddel}}^\theta$	
$n = \frac{Q}{e}$ or/of $n = \frac{Q}{q_e}$	



TABLE 3: THE PERIODIC TABLE OF ELEMENTS
TABEL 3: DIE PERIODIEKE TABEL VAN ELEMENTE

1 (I)	2 (II)	3	4	5	6	7	8	9	10	11	12	13 (III)	14 (IV)	15 (V)	16 (VI)	17 (VII)	18 (VIII)
1 2,1 H 1																	2 He 4
3 1,0 Li 7	4 1,5 Be 9											5 2,0 B 11	6 2,5 C 12	7 3,0 N 14	8 3,5 O 16	9 4,0 F 19	10 Ne 20
11 0,9 Na 23	12 1,2 Mg 24											13 1,5 Al 27	14 1,8 Si 28	15 2,1 P 31	16 2,5 S 32	17 3,0 Cl 35,5	18 Ar 40
19 0,8 K 39	20 1,0 Ca 40	21 1,3 Sc 45	22 1,5 Ti 48	23 1,6 V 51	24 1,6 Cr 52	25 1,5 Mn 55	26 1,8 Fe 56	27 1,8 Co 59	28 1,8 Ni 59	29 1,9 Cu 63,5	30 1,6 Zn 65	31 1,6 Ga 70	32 1,8 Ge 73	33 2,0 As 75	34 2,4 Se 79	35 2,8 Br 80	36 Kr 84
37 0,8 Rb 86	38 1,0 Sr 88	39 1,2 Y 89	40 1,4 Zr 91	41 Nb 92	42 1,8 Mo 96	43 1,9 Tc	44 2,2 Ru 101	45 2,2 Rh 103	46 2,2 Pd 106	47 1,9 Ag 108	48 1,7 Cd 112	49 1,7 In 115	50 1,8 Sn 119	51 1,9 Sb 122	52 2,1 Te 128	53 2,5 I 127	54 Xe 131
55 0,7 Cs 133	56 0,9 Ba 137	57 La 139	72 1,6 Hf 179	73 Ta 181	74 W 184	75 Re 186	76 Os 190	77 Ir 192	78 Pt 195	79 Au 197	80 Hg 201	81 1,8 Tl 204	82 1,8 Pb 207	83 1,9 Bi 209	84 2,0 Po	85 2,5 At	86 Rn
87 0,7 Fr	88 0,9 Ra 226	89 Ac															
			58 Ce 140	59 Pr 141	60 Nd 144	61 Pm	62 Sm 150	63 Eu 152	64 Gd 157	65 Tb 159	66 Dy 163	67 Ho 165	68 Er 167	69 Tm 169	70 Yb 173	71 Lu 175	
			90 Th 232	91 Pa	92 U 238	93 Np	94 Pu	95 Am	96 Cm	97 Bk	98 Cf	99 Es	100 Fm	101 Md	102 No	103 Lr	

KEY/SLEUTEL

Atomic number
Atoomgetal

Electronegativity
Elektronegatiwiteit

Symbol
Simbool

Approximate relative atomic mass
Benaderde relatiewe atoommassa

29
Cu
63,5

TABLE 4A: STANDARD REDUCTION POTENTIALS
TABEL 4A: STANDAARD-REDUKSIEPOTENSIALE

Half-reactions/Halfreaksies	E^\ominus (V)
$F_2(g) + 2e^- \rightleftharpoons 2F^-$	+ 2,87
$Co^{3+} + e^- \rightleftharpoons Co^{2+}$	+ 1,81
$H_2O_2 + 2H^+ + 2e^- \rightleftharpoons 2H_2O$	+1,77
$MnO_4^- + 8H^+ + 5e^- \rightleftharpoons Mn^{2+} + 4H_2O$	+ 1,51
$Cl_2(g) + 2e^- \rightleftharpoons 2Cl^-$	+ 1,36
$Cr_2O_7^{2-} + 14H^+ + 6e^- \rightleftharpoons 2Cr^{3+} + 7H_2O$	+ 1,33
$O_2(g) + 4H^+ + 4e^- \rightleftharpoons 2H_2O$	+ 1,23
$MnO_2 + 4H^+ + 2e^- \rightleftharpoons Mn^{2+} + 2H_2O$	+ 1,23
$Pt^{2+} + 2e^- \rightleftharpoons Pt$	+ 1,20
$Br_2(l) + 2e^- \rightleftharpoons 2Br^-$	+ 1,07
$NO_3^- + 4H^+ + 3e^- \rightleftharpoons NO(g) + 2H_2O$	+ 0,96
$Hg^{2+} + 2e^- \rightleftharpoons Hg(l)$	+ 0,85
$Ag^+ + e^- \rightleftharpoons Ag$	+ 0,80
$NO_3^- + 2H^+ + e^- \rightleftharpoons NO_2(g) + H_2O$	+ 0,80
$Fe^{3+} + e^- \rightleftharpoons Fe^{2+}$	+ 0,77
$O_2(g) + 2H^+ + 2e^- \rightleftharpoons H_2O_2$	+ 0,68
$I_2 + 2e^- \rightleftharpoons 2I^-$	+ 0,54
$Cu^+ + e^- \rightleftharpoons Cu$	+ 0,52
$SO_2 + 4H^+ + 4e^- \rightleftharpoons S + 2H_2O$	+ 0,45
$2H_2O + O_2 + 4e^- \rightleftharpoons 4OH^-$	+ 0,40
$Cu^{2+} + 2e^- \rightleftharpoons Cu$	+ 0,34
$SO_4^{2-} + 4H^+ + 2e^- \rightleftharpoons SO_2(g) + 2H_2O$	+ 0,17
$Cu^{2+} + e^- \rightleftharpoons Cu^+$	+ 0,16
$Sn^{4+} + 2e^- \rightleftharpoons Sn^{2+}$	+ 0,15
$S + 2H^+ + 2e^- \rightleftharpoons H_2S(g)$	+ 0,14
$2H^+ + 2e^- \rightleftharpoons H_2(g)$	0,00
$Fe^{3+} + 3e^- \rightleftharpoons Fe$	- 0,06
$Pb^{2+} + 2e^- \rightleftharpoons Pb$	- 0,13
$Sn^{2+} + 2e^- \rightleftharpoons Sn$	- 0,14
$Ni^{2+} + 2e^- \rightleftharpoons Ni$	- 0,27
$Co^{2+} + 2e^- \rightleftharpoons Co$	- 0,28
$Cd^{2+} + 2e^- \rightleftharpoons Cd$	- 0,40
$Cr^{3+} + e^- \rightleftharpoons Cr^{2+}$	- 0,41
$Fe^{2+} + 2e^- \rightleftharpoons Fe$	- 0,44
$Cr^{3+} + 3e^- \rightleftharpoons Cr$	- 0,74
$Zn^{2+} + 2e^- \rightleftharpoons Zn$	- 0,76
$2H_2O + 2e^- \rightleftharpoons H_2(g) + 2OH^-$	- 0,83
$Cr^{2+} + 2e^- \rightleftharpoons Cr$	- 0,91
$Mn^{2+} + 2e^- \rightleftharpoons Mn$	- 1,18
$Al^{3+} + 3e^- \rightleftharpoons Al$	- 1,66
$Mg^{2+} + 2e^- \rightleftharpoons Mg$	- 2,36
$Na^+ + e^- \rightleftharpoons Na$	- 2,71
$Ca^{2+} + 2e^- \rightleftharpoons Ca$	- 2,87
$Sr^{2+} + 2e^- \rightleftharpoons Sr$	- 2,89
$Ba^{2+} + 2e^- \rightleftharpoons Ba$	- 2,90
$Cs^+ + e^- \rightleftharpoons Cs$	- 2,92
$K^+ + e^- \rightleftharpoons K$	- 2,93
$Li^+ + e^- \rightleftharpoons Li$	- 3,05

Increasing strength of oxidising agents/Toenemende sterkte van oksideermiddels

Increasing strength of reducing agents/Toenemende sterkte van reduseermiddels



TABLE 4B: STANDARD REDUCTION POTENTIALS
TABEL 4B: STANDAARD-REDUKSIEPOTENSIALE

Increasing strength of oxidising agents/Toenemende sterkte van oksideermiddels

Half-reactions/ <i>Halfreaksies</i>	E^θ (V)
$\text{Li}^+ + e^- \rightleftharpoons \text{Li}$	-3,05
$\text{K}^+ + e^- \rightleftharpoons \text{K}$	-2,93
$\text{Cs}^+ + e^- \rightleftharpoons \text{Cs}$	-2,92
$\text{Ba}^{2+} + 2e^- \rightleftharpoons \text{Ba}$	-2,90
$\text{Sr}^{2+} + 2e^- \rightleftharpoons \text{Sr}$	-2,89
$\text{Ca}^{2+} + 2e^- \rightleftharpoons \text{Ca}$	-2,87
$\text{Na}^+ + e^- \rightleftharpoons \text{Na}$	-2,71
$\text{Mg}^{2+} + 2e^- \rightleftharpoons \text{Mg}$	-2,36
$\text{Al}^{3+} + 3e^- \rightleftharpoons \text{Al}$	-1,66
$\text{Mn}^{2+} + 2e^- \rightleftharpoons \text{Mn}$	-1,18
$\text{Cr}^{2+} + 2e^- \rightleftharpoons \text{Cr}$	-0,91
$2\text{H}_2\text{O} + 2e^- \rightleftharpoons \text{H}_2(\text{g}) + 2\text{OH}^-$	-0,83
$\text{Zn}^{2+} + 2e^- \rightleftharpoons \text{Zn}$	-0,76
$\text{Cr}^{3+} + 3e^- \rightleftharpoons \text{Cr}$	-0,74
$\text{Fe}^{2+} + 2e^- \rightleftharpoons \text{Fe}$	-0,44
$\text{Cr}^{3+} + e^- \rightleftharpoons \text{Cr}^{2+}$	-0,41
$\text{Cd}^{2+} + 2e^- \rightleftharpoons \text{Cd}$	-0,40
$\text{Co}^{2+} + 2e^- \rightleftharpoons \text{Co}$	-0,28
$\text{Ni}^{2+} + 2e^- \rightleftharpoons \text{Ni}$	-0,27
$\text{Sn}^{2+} + 2e^- \rightleftharpoons \text{Sn}$	-0,14
$\text{Pb}^{2+} + 2e^- \rightleftharpoons \text{Pb}$	-0,13
$\text{Fe}^{3+} + 3e^- \rightleftharpoons \text{Fe}$	-0,06
$2\text{H}^+ + 2e^- \rightleftharpoons \text{H}_2(\text{g})$	0,00
$\text{S} + 2\text{H}^+ + 2e^- \rightleftharpoons \text{H}_2\text{S}(\text{g})$	+0,14
$\text{Sn}^{4+} + 2e^- \rightleftharpoons \text{Sn}^{2+}$	+0,15
$\text{Cu}^{2+} + e^- \rightleftharpoons \text{Cu}^+$	+0,16
$\text{SO}_4^{2-} + 4\text{H}^+ + 2e^- \rightleftharpoons \text{SO}_2(\text{g}) + 2\text{H}_2\text{O}$	+0,17
$\text{Cu}^{2+} + 2e^- \rightleftharpoons \text{Cu}$	+0,34
$2\text{H}_2\text{O} + \text{O}_2 + 4e^- \rightleftharpoons 4\text{OH}^-$	+0,40
$\text{SO}_2 + 4\text{H}^+ + 4e^- \rightleftharpoons \text{S} + 2\text{H}_2\text{O}$	+0,45
$\text{Cu}^+ + e^- \rightleftharpoons \text{Cu}$	+0,52
$\text{I}_2 + 2e^- \rightleftharpoons 2\text{I}^-$	+0,54
$\text{O}_2(\text{g}) + 2\text{H}^+ + 2e^- \rightleftharpoons \text{H}_2\text{O}_2$	+0,68
$\text{Fe}^{3+} + e^- \rightleftharpoons \text{Fe}^{2+}$	+0,77
$\text{NO}_3^- + 2\text{H}^+ + e^- \rightleftharpoons \text{NO}_2(\text{g}) + \text{H}_2\text{O}$	+0,80
$\text{Ag}^+ + e^- \rightleftharpoons \text{Ag}$	+0,80
$\text{Hg}^{2+} + 2e^- \rightleftharpoons \text{Hg}(\ell)$	+0,85
$\text{NO}_3^- + 4\text{H}^+ + 3e^- \rightleftharpoons \text{NO}(\text{g}) + 2\text{H}_2\text{O}$	+0,96
$\text{Br}_2(\ell) + 2e^- \rightleftharpoons 2\text{Br}^-$	+1,07
$\text{Pt}^{2+} + 2e^- \rightleftharpoons \text{Pt}$	+1,20
$\text{MnO}_2 + 4\text{H}^+ + 2e^- \rightleftharpoons \text{Mn}^{2+} + 2\text{H}_2\text{O}$	+1,23
$\text{O}_2(\text{g}) + 4\text{H}^+ + 4e^- \rightleftharpoons 2\text{H}_2\text{O}$	+1,23
$\text{Cr}_2\text{O}_7^{2-} + 14\text{H}^+ + 6e^- \rightleftharpoons 2\text{Cr}^{3+} + 7\text{H}_2\text{O}$	+1,33
$\text{Cl}_2(\text{g}) + 2e^- \rightleftharpoons 2\text{Cl}^-$	+1,36
$\text{MnO}_4^- + 8\text{H}^+ + 5e^- \rightleftharpoons \text{Mn}^{2+} + 4\text{H}_2\text{O}$	+1,51
$\text{H}_2\text{O}_2 + 2\text{H}^+ + 2e^- \rightleftharpoons 2\text{H}_2\text{O}$	+1,77
$\text{Co}^{3+} + e^- \rightleftharpoons \text{Co}^{2+}$	+1,81
$\text{F}_2(\text{g}) + 2e^- \rightleftharpoons 2\text{F}^-$	+2,87

Increasing strength of reducing agents/Toenemende sterkte van reduseermiddels

